

## UZUPEŁNIA ZESPÓŁ NADZORUJĄCY

KOD UCZNIKA

--	--	--

PESEL

--	--	--	--	--	--	--	--	--	--	--	--

*miejsce  
na naklejkę  
z kodem*

## SPRAWDZIAN W KLASIE SZÓSTEJ SZKOŁY PODSTAWOWEJ

**KWIECIEŃ 2014**

### Informacje dla ucznia

1. Sprawdź, czy zestaw egzaminacyjny zawiera 12 stron. Jeśli brakuje stron, zgłoś to nauczycielowi.
2. Sprawdzenie składa się z 25 zadań.
3. Czytaj uważnie wszystkie zadania.
4. Do niektórych zadań podane są odpowiedzi:  
A.       B.       C.   
lub  
TAK     NIE   
Tylko jedna z nich jest poprawna. Wybierz ją i wpisz znak  $\times$  w okienko , na przykład: .
5. Gdy się pomylisz, otocz błąd kółkiem w taki sposób:  i zaznacz poprawną odpowiedź: .
6. Pozostałe zadania wykonaj bezpośrednio pod poleceniami. Pomyłki przekreślaj.
7. Jeśli nie potrafisz rozwiązać któregoś zadania, przejdź do następnego. Do opuszczonego wróć, jeśli będziesz mieć czas.
8. Na ostatniej stronie znajduje się brudnopis, z którego możesz skorzystać. To, co w nim napiszesz, nie będzie sprawdzane.

**Czas pracy:  
do 90 minut**

**Liczba punktów  
do uzyskania: 40**

**Powodzenia!**

S-8-142



**Przeczytaj tekst i rozwiąż zadania: 1., 2., 3., 4. i 5.**

*Męskie gotowanie*

Wiesz co, tato?  
Zróbmy dzisiaj sami obiad!  
Z trzech dań. Dla mamy.  
Wróci z pracy zmęczona,  
przemoczona do nitki,  
a tu na pierwsze danie:  
frytki!

Na drugie... na drugie danie będzie...  
ananas z puszki,  
słodziutki, że lizać paluszki.  
A na deser –  
oczywiście jajecznicą!

A mama siada przy stole  
i się zachwyca.

Marek Głogowski

**Zadanie 1.**

**Dokończ zdanie. Zaznacz poprawną odpowiedź.**

Podmiot mówiący w wierszu to

- A.  tata.
- B.  syn.
- C.  mama.

**Zadanie 2.**

**Dokończ zdanie. Zaznacz poprawną odpowiedź.**

W pierwszej zwrotce wiersza podmiot mówiący wyraża

- A.  zdziwienie.
- B.  zachwyt.
- C.  ochotę.

**Zadanie 3.**

**Dokończ zdanie. Zaznacz poprawną odpowiedź.**

Jajecznica ma być przyrządzona na

- A.  pierwsze danie.
- B.  drugie danie.
- C.  deser.

**Zadanie 4.**

**Dokończ zdanie.**

Wiersz ma tytuł *Męskie gotowanie*, ponieważ .....

.....

**Zadanie 5.**

**Zaznacz poprawną odpowiedź.**

Jaki jest nastrój wiersza?

- A.  smutny
- B.  pogodny
- C.  poważny

**Zadanie 6.**

**Dokończ zdanie. Zaznacz poprawną odpowiedź.**

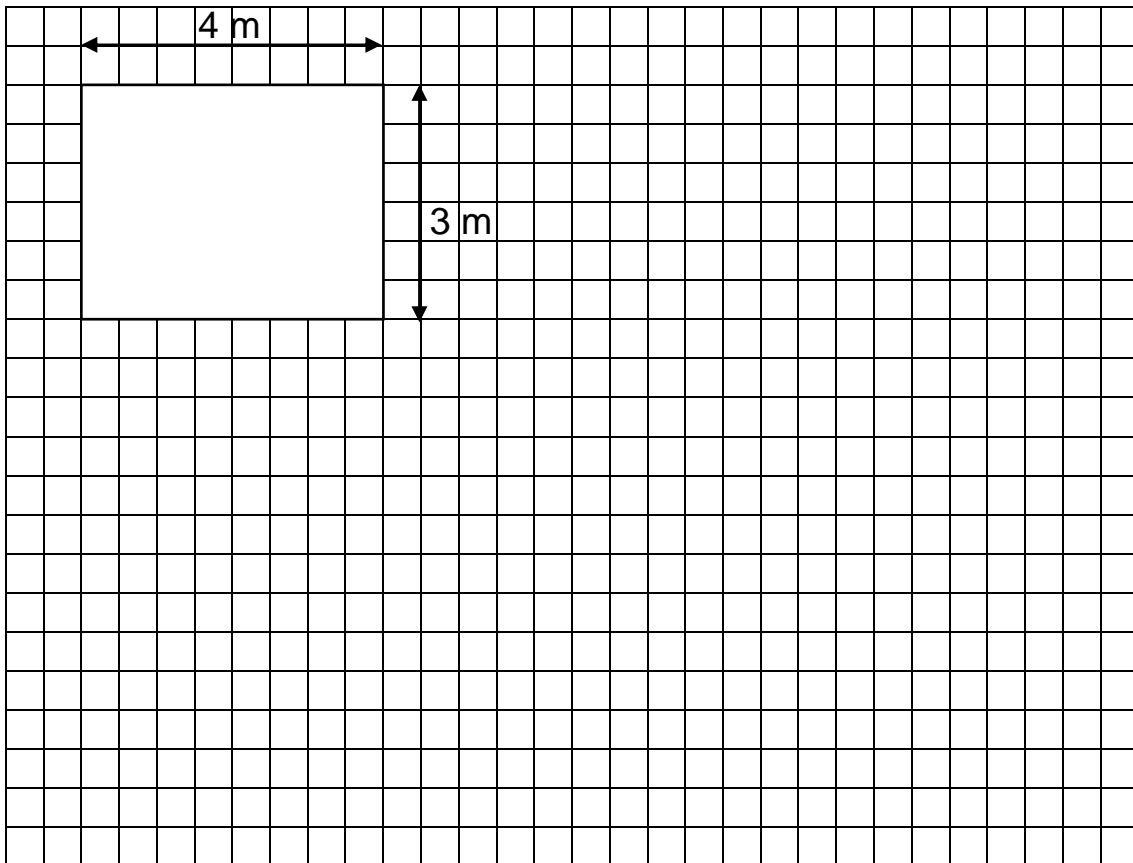
Jak sprawdzić, czy herbata jest słodka? Za pomocą

- A.  oczu.
- B.  nosa.
- C.  języka.

**Zadanie 7.**

Podłoga w kuchni ma kształt prostokąta i wymiary, jak na rysunku.

**Oblicz, ile metrów kwadratowych ma pole powierzchni tej podłogi.  
Zapisz obliczenia i uzupełnij odpowiedź.**




Odpowiedź: Pole powierzchni podłogi jest równe ..... m<sup>2</sup>.

**Zadanie 8.**

**Dokończ zdanie. Zaznacz poprawną odpowiedź.**

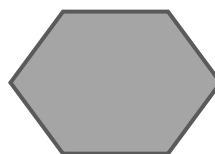
Obrus w kształcie sześciokąta przedstawiono na rysunku



A.



B.



C.

**Zadanie 9.**

**Opisz sytuację przedstawioną na zdjęciu. Postaraj się napisać co najmniej 5 linijek.**



.....

.....

.....

.....

.....

.....

.....

.....

.....

.....

**Przeczytaj tekst i rozwiąż zadania: 10., 11. i 12.**

Zanim wymyślono łyżkę, ludzie jedli rękami. Później człowiek zaczął lepić łyżki z gliny. Najpierw gliniana łyżka składała się z dwóch części – czerpaka, zwanego też czarką, i trzonka, nazywanego rękojeścią. Później obie te części razem wypalano.

Do XVIII wieku łyżki polskie, szczególnie w bogatych domach, były połączane lub wykonane ze srebra. Stanowiły rzecz bardzo cenną, pilnie strzeżoną przez właściciela. Czerpaki lub trzonki tych łyżek zdobiono, rzeźbiąc na nich różne wzory i powiedzenia, na przykład „Nakarm głodnego, napój spragnionego”.

W XIX wieku w miastach najczęściej używano łyżek blaszanych.

**Zadanie 10.**

**Dokończ zdanie. Zaznacz poprawną odpowiedź.**

Tekst w ramce opowiada

- A.  o jedzeniu zupy.
- B.  o karmieniu głodnych.
- C.  o historii łyżki.

**Zadanie 11.**

**Zaznacz poprawną odpowiedź.**

Z jakich części składała się gliniana łyżka?

- A.  z czerpaka i czarki
- B.  z czerpaka i trzonka
- C.  z trzonka i rękojeści

**Zadanie 12.**

**Zaznacz TAK, jeśli zdanie jest prawdziwe, a NIE, jeśli zdanie jest fałszywe.**

Pierwsze łyżki wykonane przez człowieka były z gliny.

TAK       NIE

W XVIII wieku szczególnie cenne były łyżki blaszane.

TAK       NIE

**Zadanie 13.**

**Napisz, jak rozumiesz powiedzenie *Nakarm głodnego, napój spragnionego*.**

.....

.....

.....

.....

.....

**Zadanie 14.**

**Dokończ zdanie. Zaznacz poprawną odpowiedź.**

W szklance z gorącą herbatą najszybciej nagrzej się łyżka wykonana

- A.  ze szkła.
- B.  z drewna.
- C.  ze srebra.

**Zadanie 15.**

**Uzupełnij zdanie właściwymi wyrazami spośród podanych:**

**nożem, łyżką, widelcem.**

Tomek nabierał zupę ....., a Ania  
..... kroїła pomidory w plasterki.

**Zadanie 16.**

W większym garnku były 4 litry wody. Tata odlał 1 litr wody do mniejszego garnka.

**Zaznacz poprawną odpowiedź.**


Za pomocą którego wyrażenia obliczysz, ile wody zostało w większym garnku?

- A.   $4 + 1$
- B.   $4 - 1$
- C.   $4 : 1$

Przyjrzyj się rysunkom i rozwiąż zadania 17. i 18.



3,50 zł



2 zł

**Zadanie 17.**

**Dokończ zdanie. Zaznacz poprawną odpowiedź.**


Masło jest droższe od mleka o

- A.  1,50 zł
- B.  3,50 zł
- C.  5,50 zł

**Zadanie 18.**

Za 4 kartony mleka i 2 kostki masła mama zapłaciła banknotem 20 zł.

**Oblicz, ile reszty otrzymała mama. Zapisz obliczenia i uzupełnij odpowiedź.**



Odpowiedź: Mama otrzymała ..... reszty.



**Zadanie 19.**

**Zaznacz poprawną odpowiedź.**

Do pustego naczynia o pojemności 4 litrów wiano 2 litry wody. Który rysunek przedstawia opisaną sytuację?



A.




B.



C.

**Zadanie 20.**

Mama rozlała 1 litr mleka do 4 kubków. W każdym kubku była taka sama ilość mleka.



**Zaznacz poprawną odpowiedź.**

Ile mleka było w jednym kubku?

A.   $\frac{1}{4}$  litra

B.   $\frac{1}{2}$  litra

C.   $\frac{3}{4}$  litra

**Zadanie 21.**

Na podstawie kalendarza uzupełnij zdania, wpisując nazwy właściwych dni tygodnia.

Kwiecień 2014						
poniedziałek	wtorek	środa	czwartek	piątek	sobota	niedziela
	1	2	3	4	5	6
7	8	9	10	11	12	13
14	15	16	17	18	19	20
21	22	23	24	25	26	27
28	29	30				

Termin przydatności masła do spożycia mija 20 kwietnia, czyli  
W .....

Ostatni dzień miesiąca przypada w .....

**Zadanie 22.**

Zaznacz TAK, jeśli zdanie jest prawdziwe, a NIE, jeśli zdanie jest fałszywe.

Masło podczas podgrzewania na patelni topnieje.

TAK       NIE

**Zadanie 23.**

Zaznacz poprawną odpowiedź.

W którym szeregu zapisano nazwy produktów tylko pochodzenia roślinnego?

- A.  chleb, wędlina, mięso
- B.  jaja, jogurt, masło
- C.  kasza, sok, cukier

**Zadanie 24.**

Uzupełnij zdania. Wpisz w odpowiedniej formie nazwy właściwych przedmiotów spośród podanych:

patelnia, talerz, czajnik, tarka.

W ..... gotuje się wodę.

Na ..... smaży się kotlety.

**Zadanie 25.**

Przeczytaj fragment spisu treści książki kucharskiej.

Część I	Zasady zdrowego żywienia .....	s. 5
Część II	Potrawy z warzyw .....	s. 12
Część III	Potrawy z drobiu .....	s. 43
Część IV	Potrawy z ryb .....	s. 87

**Dokończ zdania.**

Najwięcej informacji o tym, jak prawidłowo odżywiać się, można przeczytać w części .....

Przepisów na potrawy z kurczaka należy szukać w części rozpoczynającej się na stronie .....

# Brudnopis

