

# UZUPEŁNIAZESPÓŁNADZORUJĄCY

KODUCZNA

--	--	--

DATAURODZENIA UCZNI

--	--	--	--	--	--	--	--

dzień miesiąc rok

miejsce  
nanaklejkę  
zkodem

## SPRAWDZIAN WSZÓSTEJ KLASIE SZKOŁY PODSTAWOWEJ

*„Popołudnie Kasi”*

### Informacja dla ucznia

1. Sprawdź, czy zestaw egzaminacyjny zawiera 10 stron.  
Ewentualny brak zgłoś nauczycielowi.
  2. Sprawdzian składa się z 21 zadań.
  3. Czytaj uważnie wszystkie zadania.
  4. Do niektórych zadań podane są odpowiedzi:  
 A.B.C.
- lub
- Tylko jedna z nich jest prawidłowa. Wybierz i wpisz
- znak **X** w kienko, np.  przykład: .
5. Gdy się pomylisz, otocz błędny znak kółkiem w ten sposób:
  6. Pozostałe zadania wykonaj bezpośrednio pod poleceniami. Pomyłki przekreślaj.
  7. Jeśli nie potrafisz rozwiązać któregoś zadania, przejdź do następnego. Doopuszczonego wróć, jeśli ślubędziesz mieć czas.
  8. Na ostatniej stronie znajdziesz błąd i napis, którego możesz skorzystać. To, co nim napiszesz, nie będzie sprawdzane.

**KWIECIEŃ 2003**

**Czas pracy:  
60 minut**

(można przedłużyć nie więcej niż o 30 minut)

**Liczba punktów  
do uzyskania: 40**

**Powodzenia!**

S-A8-032

### Zadanie 1.

Przeczytaj tekst.

Popowrocie z szkoły Kasia jadła obiad, a następnie odrobiła lekcje. Potem zadzwoniła do przyjaciółki i zaprosiła ją na plac zabaw do wspólnej gry w piłkę.

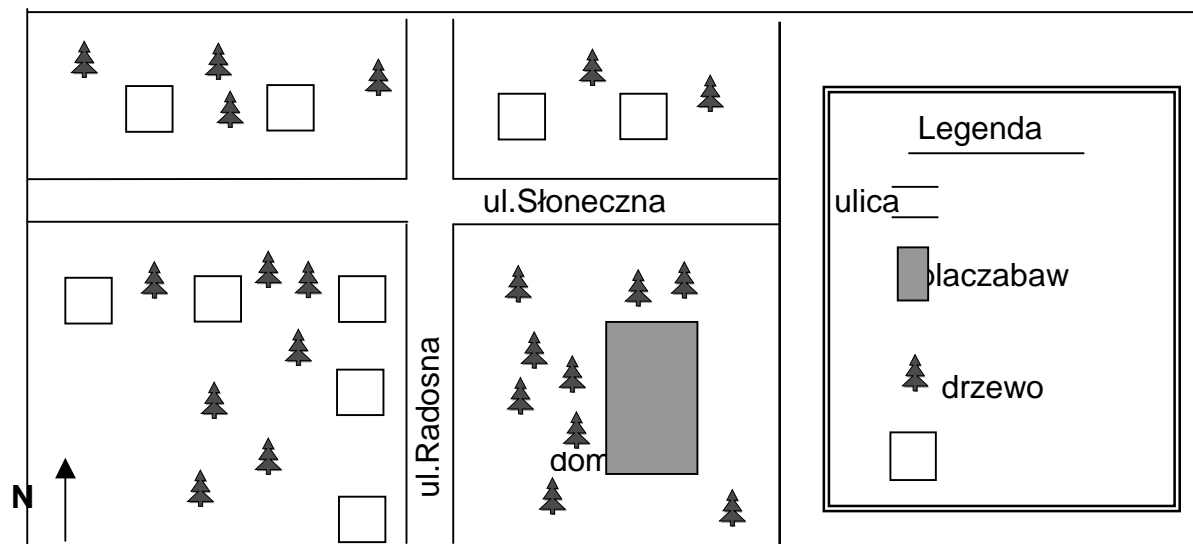
Zaznacz prawidłową odpowiedź.

Po odrobieniu lekcji Kasia

- A. zjadła obiad.
- B. poszła do szkoły.
- C. zadzwoniła do koleżanki.

### Zadanie 2.

Zapoznaj się z planem osiedla, na którym mieszka Kasia.



Zaznacz TAK przy zdaniach prawdziwych, NIE przy zdaniach fałszywych.

1. Na osiedlu rosną drzewa.  TAK  NIE
2. Ulice Słoneczna i Radosna są równoległe.  TAK  NIE
3. Placzabaw znajduje się na północ od ulicy Słonecznej.  TAK  NIE




**Zadanie 3.**

Kasia grała w piłkę nożną o godzinie 16<sup>00</sup>.

Zaznacz zegar, który pokazuje godzinę rozpoczęcia gry.

A.

C.



**Zadanie 4.**

Zaznacz prawidłową odpowiedź.

Tarcze zegarów przedstawionych na rysunku w zadaniu 3 mają kształt

A. trójkąta.


B. prostokąta.

C. koła.

**Zadanie 5.**

Dzieci grały w piłkę nożną o godzinie 16:00.

Narysuj kształt tego boiska zgodnie z podanymi wymiarami: 5cm x 3cm.



## Przeczytaj wiersz.

### *Piłkanaulicy*

Gdzie jest piłka? Na ulicy.  
Zanią, zanią! Kto to krzyczy?  
Zgrzyhamulców. Piszczyą koła.  
Stój, zatrzymaj się! – kto woła.  
Taktokończy się zabawa:  
wielki łacziból, iwrzawa.  
Lecz gorzej także bywa!  
Tutaj piłkę się nie grywa.

Tadeusz Śliwiak *Bajkotekadruga*, Wydawnictwo Literackie, Kraków 1982.

### Zadanie 6.

#### Zaznacz prawidłową odpowiedź.

W wierszu czytamy o zabawie

- A. samochodami.
- B. piłką.
- C. rowerami.

### Zadanie 7.

#### Zaznacz prawidłową odpowiedź.

Tytuł wiersza to

- Tadeusz Śliwiak.
- Piłkanaulicy.
- Bajkotekadruga.

### Zadanie 8.

#### Zaznacz prawidłową odpowiedź.

Najbezpieczniejszym miejscem do gry w piłkę jest

- jezdnia.
- chodnik.
- boisko.

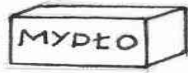




### Zadanie13.

Zaznacz środek czystości, który służy do higieny skóry.

A.



C.



### Zadanie14.

Przeczytaj fragment programu telewizyjnego.

17<sup>20</sup> - 17<sup>50</sup> Napomocz wierzętom

17<sup>50</sup> - 18<sup>15</sup> Wielkie bitwomorskie

18<sup>15</sup> - 19<sup>00</sup> Wiekod kryć i postępu

Zaznacz prawidłową odpowiedź.

Jeżeli Kasiachce wiecej wiedzic o wynalazkach technicznych, powinna obejrzec program rozpoczynajacy sie o godzinie

A. 17<sup>20</sup>

B. 17<sup>50</sup>

C. 18<sup>15</sup>

### Zadanie15.

Kasia postanowila zadzwonic do Loly.

Zaznacz prawidłową odpowiedź.

Aby uzyskac polaczenie telefoniczne, dziewczynka powinna wykonac kolejno następujace czynnosci:

A. podnieść słuchawkę, wybrac numer.

B. wybrac numer, podnieść słuchawkę.

C. podnieść słuchawkę i czekac, a zodezwiesi kolezanka.









## Brudnopis

